

KHỞI ĐỘNG







KẾT NỐI TRI THỨC
VỚI CUỘC SỐNG

TOÁN 2

Phép cộng (qua 10) trong phạm vi 20

(TIẾT 3)



Luyện tập



1 a) Tính $7 + 5$

$$7 + 5 = 10 + \boxed{2} = \boxed{12}$$

3 2

b) Tính $7 + 6$

$$7 + 6 = 10 + \boxed{3} = \boxed{13}$$

3 3

2 a) Số?

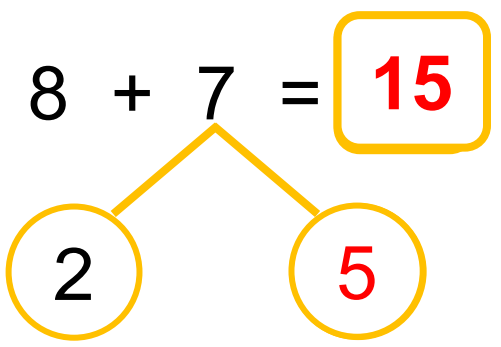
Số hạng	7	7	7	7	7	7
Số hạng	4	5	6	7	8	9
Tổng	11	12	13	14	15	16

b) Mai tách 14 que tính thành hai nhóm. Em hãy tìm số que tính ở nhóm 2 trong bảng sau:

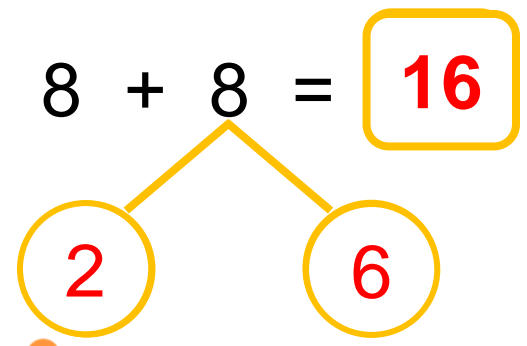
Nhóm 1	Nhóm 2
10	4
9	5
8	6
7	7



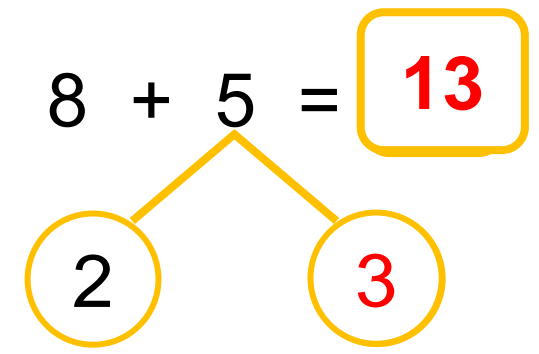
3 a) Tính $8 + 7$



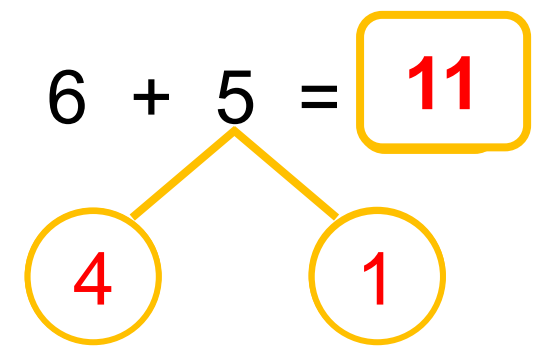
c) Tính $8 + 8$



b) Tính $8 + 5$



d) Tính $6 + 5$



4 SỐ?

+	8	8	8	8	8	8	8
	3	4	5	6	7	8	9
	11	12	13	14	15	16	17

5

Để giúp đỡ các bạn học sinh ở vùng khó khăn, lớp em đã quyên góp được 8 thùng quần áo và 5 thùng sách vở. Hỏi cả quần áo và sách vở, lớp em đã quyên góp được bao nhiêu thùng?



8

+

5

=

13

VĂN

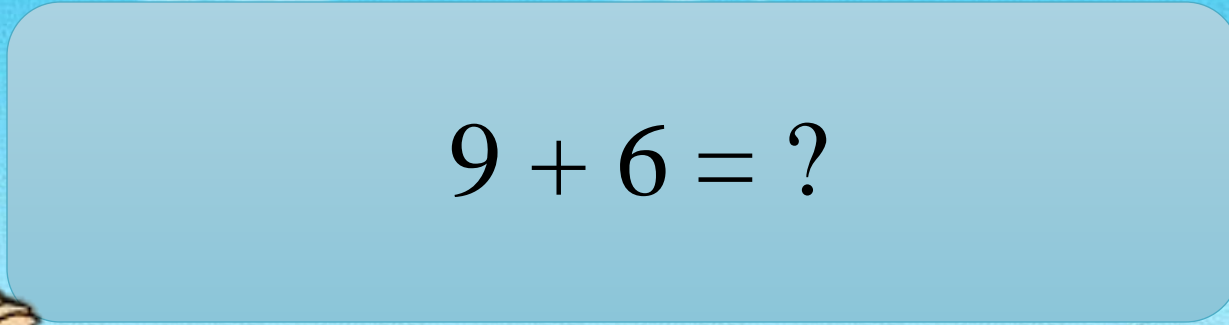

DỤNG



**HỌC
CÙNG
NOBITA**



Nobita của chúng ta đang gặp phải những câu hỏi khó, các em hãy cùng nhau giúp đỡ cậu chàng hậu đậu trả lời những câu hỏi đó nhé.



$9 + 6 = ?$



15

Tính tổng của 7 và 8



15



Tính $9 + 5 - 2$

12





Nobita, cậu
giỏi quá!



Hihi...Cám
ơn các bạn.

**CHÚC CÁC EM
HỌC TỐT!**

